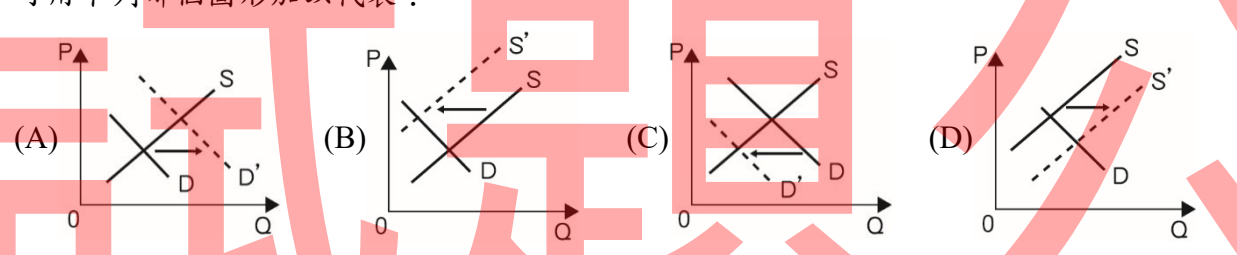


# 115學年度中區縣市政府教師甄選策略聯盟

## 【科目名稱：公民與社會】

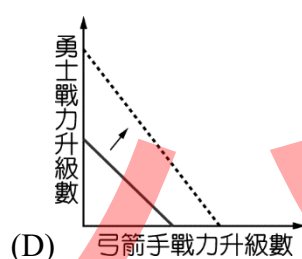
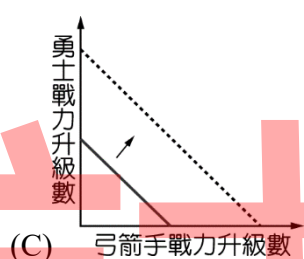
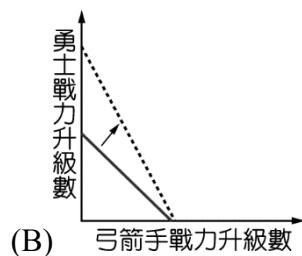
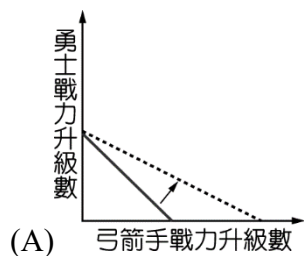
選擇題【共50題，每題2分，共100分】請以2B鉛筆於答案卡上作答，單選題；答錯不倒扣。

- 阿宏跟小芳兩人結婚前名下均無任何財產，結婚後阿宏專心衝刺事業，小芳則當全職家庭主婦，未料阿宏另結新歡，小芳忍痛與阿宏離婚。若兩人結婚時並未約定夫妻財產制，且名下無任何財產，離婚時阿宏有存款1,000萬元，而小芳則無任何財產，請問下列敘述何者正確？  
(A)兩人未約定夫妻財產制，因此小芳不得向阿宏請求夫妻剩餘財產分配  
(B)小芳得向阿宏請求夫妻剩餘財產分配500萬元  
(C)小芳得向阿宏請求夫妻剩餘財產分配250萬元  
(D)小芳得向阿宏請求夫妻剩餘財產分配1,000萬元
- 臺灣曾經是鞋子王國，現在則是資訊產品王國。下列何者可以說明此種轉變？  
(A)鞋子的機會成本降低，資訊產品的比較利益增加  
(B)鞋子的機會成本增加，資訊產品的比較利益下降  
(C)鞋子的比較利益降低，資訊產品的機會成本下降  
(D)鞋子的比較利益增加，資訊產品的機會成本增加
- 前段時間台灣寒流來襲，玫瑰農的花園出現不開花、花朵凍爛的情況，恐面臨損失慘重的困境。請問上述事件對玫瑰花市場的影響，可用下列哪個圖形加以代表？  

- 西元前115年，西漢在部分地區設置均輸官，要求當地人民把原本要當成稅賦的穀物等實物，在當地折換成現金(錢或帛)繳給均輸官，各地的均輸官再用現金到京師及其他地方購買實物交給朝廷，以節省運送實物到中央的支出。由於繳稅期間集中於一年的某個時節，因此人民和均輸官都必須趕在期限內達到朝廷的要求，請問由此推論，在繳稅期間，「(甲)均輸官設置地區的實物價格」和「(乙)京師及其他地方的實物價格」最可能出現何種變化？  
(A)(甲)：上漲；(乙)下跌  
(B)(甲)：下跌；(乙)上漲  
(C)(甲)：上漲；(乙)上漲  
(D)(甲)：下跌；(乙)下跌
- 「魷魚遊戲」是一部美國線上串流影音平台Netflix出資發行、並由韓國製作的影集，上線僅11天就打破紀錄，成為該平台有史以來最受歡迎的影集。Netflix執行長說，他從2018年起就在尋找由海外製作的成功影集系列。請從題文判斷，魷魚遊戲的成功，顯示了當今世界的什麼現象？  
(A)大眾流行文化藉由資訊科技傳播  
(B)跨國公司逐漸放棄本國生產  
(C)全球影視文化漸趨一致  
(D)網路科技不會影響人們閱聽習慣
- 多年前，我國法律禁止「非視障者」從事按摩業，但有人對這樣的法律不服氣，因此提起大法官釋憲。大法官認為，這樣的規範不只限制了明眼人的工作選擇自由，也限縮了視障者對職業選擇的想像，或是國家在輔導視障者就業的時候，只優先考量按摩業，可能對視障者造成不好的影響。請問關於以上敘述，何者推論較為合理？  
(A)該法規造成不公平的資源分配，讓明眼人無法進入按摩業  
(B)該法規雖然影響了明眼人的自我實現，但不影響視障者的職業選擇  
(C)縱使有該法規，明眼人還是可以從事按摩業，只是要承擔外部成本  
(D)該法規讓按摩業的競爭較小，視障者從事按摩業有金錢的負向誘因
- 不同時期的人們，對於治理臺灣的理由及看法持有不同的意見。何斌向鄭成功建議攻打臺灣時說到：「臺灣沃野數千里，實霸王之區。若得此地，可以雄其國；使人耕種，可以足其食。上至雞籠、淡水，硝磺有焉。且橫絕大海，肆通外國，置船興販，桅舵銅鐵不憂乏用。移諸鎮兵士眷口其間，十年生聚，十年教養，而國可富，兵可強，進攻退守，真足與中國抗衡也。」施琅在建議保留臺灣時曾經說到：「竊照臺灣地方，北連吳會，南接粵嶠，延袤數千里，山川峻峭，港口迂迴，乃江、浙、閩、粵四省之左護；……臣奉旨征討，親歷其地，備見野沃土膏，物產利薄，耕桑並耦，魚鹽滋生，滿山皆屬茂樹，遍處俱植修竹。硫磺、水藤、糖蔗、鹿皮，以及一切日用之需，無所不有。……臺灣一地，雖屬多島，實關四省之要害。勿謂被中耕種，猶能少資兵食，固當議留；即為不毛荒壤，必藉內地輓運，亦斷斷乎其不可棄。」根據上述兩人的主張來看，下列哪一個選項是正確的說法？  
(A)皆著重軍事層面來說明治理臺灣的必要性，因為都提及「硫磺」此物產  
(B)皆著重經濟層面來強調統治臺灣的重要性，因為都談到臺灣的各式物產  
(C)從何斌的主張來看，特別提到臺灣具備戰略地位，為反清復明重要憑據  
(D)從施琅的主張來看，特別重視臺灣的土地肥沃，足以解決糧食不足問題

8. 警方前往臨檢一處正在舉行派對的民宅，在臨檢過程中開放媒體拍攝現場轉播，將參加派對的人一律帶回警局偵訊，並進行強制驗尿驗血。事後，衛生局公布參加派對者中愛滋（人類免疫缺乏病毒）感染者的資訊。參加派對者提出抗議，主張警方不得強制驗尿驗血，而警方則主張行為合法，因為這些參加派對者屬於衛生署所公告之有必要接受人類免疫缺乏病毒檢查者。抗議者繼而表示，雖然這個公告是依據《人類免疫缺乏病毒傳染防治及感染者權益保障條例》的授權所制定，但是衛生署規定強制接受檢查者的範圍太廣，既非必要，也過度侵害人權。請問警方與抗議者上述的主張各強調何種原則？

- (A) 警方強調罪刑法定，抗議者強調法律優越  
(B) 警方強調法律優越，抗議者強調比例原則  
(C) 警方強調比例原則，抗議者強調法律優越  
(D) 警方強調罪刑法定，抗議者強調比例原則

9. 某新款遊戲中有兩種角色可以選擇，分別是勇士和弓箭手。原本小新玩一小時遊戲，不管是只選擇勇士或只選擇弓箭手，最高可讓該角色的戰力升五級，但一小時內也可以任意轉換角色。某日小新抽到弓箭手升級速度加倍的一小時優惠，若以弓箭手戰力升級數為橫軸，勇士戰力升級數為縱軸，並以實線代表獲得優惠前每一個小時的生產可能線，在其他條件不變下，下列哪一個示意圖最適合用來顯示此優惠對小新一小時生產可能線的影響？



10. 阿海想要呼籲社會大眾關注108課綱問題，因此剪輯新聞畫面，並搭上知名演奏家馬友友的大提琴組曲，製作成投影片簡報，放在網路上供大家下載，朋友提醒他這樣做可能會有著作權問題，但也許可以主張合理使用。請問阿海可以根據下列哪個選項，主張自己是合理使用？

- (A) 使用的是電視臺的新聞畫面，報導事實的新聞不受著作權保障  
(B) 使用目的是為呼籲大家重視公民議題，沒有商業利用的意思  
(C) 使用的是古典音樂，已經發表超過50年，故不受著作權保障  
(D) 自己辛苦剪輯編排的簡報，有原創性存在，應受著作權保障

11. 《社會秩序維護法》第89條「禁止無理由尾隨他人」的規定，旨在保護個人之行動自由、免於身心傷害之身體權、及於公共場域中得合理期待不受侵擾之自由。新聞採訪者若有事實足認特定事件與公共利益有重大相關，具有新聞價值，以跟追方式進行採訪，尚非不能容忍。以上節錄大法官解釋689號之內容，下列相關敘述何者正確？

- (A) 本號解釋在調和行動自由、工作選擇自由兩種公共利益  
(B) 記者的工作權與人身自由相比之下，人身自由較為重要  
(C) 個人的身體權與記者工作權相比之下，身體權較為重要  
(D) 本號解釋認為，涉及公共利益時可合理限縮個人隱私權

12. 生產可能線是廠商在生產兩種產品時，最大可能組合的生產軌跡，而畫出的圖形可能是曲線或是直線。請問：有關生產可能線的說明下列何者正確？

- (A) 生產可能線畫出來的斜率為正，代表兩種產品間的正向關係  
(B) 生產可能線代表生產兩種產品的取捨關係，斜率即機會成本  
(C) 生產可能線若為曲線，代表生產某產品的機會成本維持不變  
(D) 生產可能線若為直線，代表生產某產品的機會成本隨之遞減

13. 《原住民族基本法》第2-1條第1項：「為促進原住民族部落健全自主發展，部落應設部落會議。部落經中央原住民族主管機關核定者，為公法人。」原住民部落公法人化後，將會產生何種變化？

- (A) 部落成為原住民族傳統智慧創作之唯一申請人  
(B) 落實部落自治化之目標，有助於原住民族的獨立  
(C) 使部落組織明確化，並以部落名義支配、管理土地  
(D) 部落將依《人民團體法》成立法人，取得權利主體地位

14. 行政法有許多基本原則，下列關於行政程序應遵守的原則，下列敘述何者正確？

- (A) 候選人舉行競選晚會是政府資訊公開的表現  
(B) 行政指導不具有強制力，不適用依法行政原則  
(C) 環保稽查員對汙染行為開罰前，通知違反行政法上義務的相對人陳述意見，符合正當行政程序的要求  
(D) 政府基於公益目的收購土地是給付行政，不適用法律保留原則

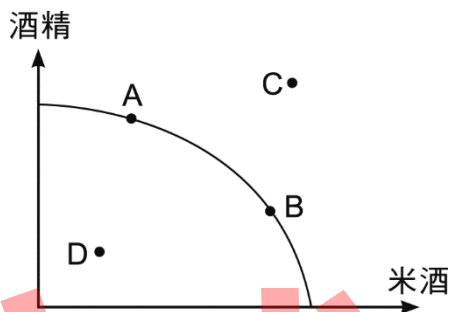
15. 我國《勞動基準法》規定，只要勞工有結婚的事實，可請婚假8日工資照給。如勞工再婚，也仍享有婚假的權利。臺北市曾經有一名銀行員工在短短37天內與同一位對象反覆結婚、離婚，一共申請32天婚假，最後銀行只核准8天，遭員工向勞動局檢舉開罰，銀行不服提起訴願，最後臺北市訴願會撤銷原處分。請問臺北市訴願會撤銷原處分的理由最可能是基於哪項原則？

- (A) 因法治國原則，該員工的請假並沒有違反《勞動基準法》的規定  
(B) 誠實信用原則，婚姻不可兒戲，不可任意反覆結婚及離婚  
(C) 禁止權利濫用原則，該員工任意擴大自己權利而影響到銀行運作  
(D) 禁止權利濫用原則，勞動局違反依法行政擴大權限導致銀行受損

16. 校園是社會的縮影，隨著民主政治的深化，學生自治權利逐漸受到重視，關於校園民主，下列敘述何者正確？
- (A)學校應在學生會安排老師，主導學生進行討論或表決，避免學生花費過多時間，影響學習及升學率
- (B)不論是對學生學業、生活輔導、獎懲有關規章研訂或影響其畢業條件之會議，應由經選舉產生的學生代表出席
- (C)學生多數為未成年人，與學校間存有特殊管教關係，即使成立學生會，仍無法改變學校對學生權利的所有限制
- (D)學生代表須以符合普通、平等、直接和無記名等投票原則，取得多數在校師生及師長的同意，才能取得民主正當性

17. 有關法律優越原則與法律保留原則的敘述，下列何者正確？
- (甲)法律優越原則是指一切行政行為均不得與法律相抵觸，亦即法律對行政行為有控制作用(乙)法律保留原則係指下級規範不得抵觸上級規範(丙)法律優越原則係指若無法律明文規定或授權，行政機關即不能合法的作成行政行為(丁)當駕駛人紅燈右轉時，交通警察對該違規者開處罰單，必須有法律規定或授權，這是法律保留原則的要求(戊)若財政部自行訂定行政規則，免除所有國民繳納所得稅，即與《所得稅法》相抵觸，則該行政規則之規定無效，此屬於法律優越原則
- (A)(甲)(乙)(丙) (B)(丙)(丁)(戊) (C)(甲)(丁)(戊) (D)(乙)(丙)(戊)

18. 下圖是臺酒公司生產酒精和米酒的生產可能曲線，請問：針對生產過程的不同狀況所導致生產可能線上各點及線內線外點的變動，何者正確？



- (A)疫情嚴重時，生產組合會從B點到A點 (B)員工日夜趕工時，生產組合會移至D點
- (C)工廠缺酒精原料時，生產組合會移至C點 (D)B點表示生產米酒比生產酒精的效率更高
19. 為了落實居住正義並減輕青年租屋負擔，政府針對特定熱門路段實施「房租最高限價」政策。若該法定租金上限設定為每月15,000元，而該區市場原先的均衡租金為25,000元。關於此政策對租屋市場預期產生的影響，下列敘述何者正確？
- (A)市場會出現供過於求，房東因租不掉為競爭提升居住品質 (B)市場總剩餘會增加，且達成资源配置效率的帕累托最適
- (C)會產生短缺現象，並可能出現私下加收清潔費等黑市交易 (D)房東因法定價格受限，為了維持獲利而擴大房屋供給產量
20. 下表為行政院主計總處公布之「家庭財富分配統計」與各國比較數據。根據圖表中各國數據的對比，結合經濟學理論進行判讀，下列敘述何者正確？
- (A)德國的吉尼係數(0.727)為表中最高，其所得分配比台灣更平均
- (B)吉尼係數是由羅倫茲曲線(Lorenz curve)與絕對平等線之間的面積比例計算而來
- (C)法國的吉尼係數遠高於台灣，代表其階級方面比台灣更加的平等
- (D)吉尼係數為0代表該國財富如同德國的第一分位處於負債的狀態

國家	吉尼係數 (Gini coefficient)	第1分位(最低20%)	第5分位(最高20%)
台灣	0.606	76.7 萬元	5133.2 萬元
澳洲	0.611	35.1 千澳元	3267.1 千澳元
德國	0.727	-3.1 千歐元	1155.7 千歐元
法國	0.676	1.5 千歐元	941.1 千歐元
英國	0.620	16.6 千英鎊	1814.0 千英鎊

21. 下表為台灣與韓國在投入相同資源下，生產「晶片」與「載板」的年產量統計表。根據比較利益原則與表中的數據判讀，下列關於兩國國際分工的敘述，何者正確？
- (A)台灣生產晶片的機會成本低於韓國，故台灣應專業生產晶片並出口
- (B)韓國在兩項產品產量均高於台灣，應同時生產所有絕對利益的產品
- (C)兩國應保持自給自足，避免受國際分工下匯率波動與地緣政治影響
- (D)根據數據判斷，比較利益僅需要考量生產數量，不需考量機會成本

國家	產品 A：晶片年產量	產品 B：載板年產量
台灣	100 單位	50 單位
韓國	200 單位	300 單位

22. 近年來中國大陸工業發展快速，但其工廠排放的廢氣常隨季風飄向韓國形成嚴重的霧霾，造成韓國國民健康與農業損失。關於上文所述的狀況，韓國可以採取的方法中下列哪一種較為合理？
- (A)韓國政府自行補貼國內受災農民、民眾，此舉即為搭便車效應的具體實踐
- (B)透過國際談判要求中國排放企業賠償或課徵跨境碳費，將外部成本內部化
- (C)韓國單方面降低國內產品售價以增加消費者剩餘，進而補償國民健康損失
- (D)因為中國為製造汙染國，所以韓國國民可以無償使用中國研發的濾淨技術

23. 某市街區同時有兩家店調整售價。手搖飲店「清心飲」因成本上升調漲珍珠奶茶價格，結果發現總收入反而大幅下降；而隔壁的「康健藥局」調漲某種慢性病必備藥品的售價，其總收入卻明顯增加。根據經濟學原理判斷，下列敘述何者正確？
- (A)「清心飲」珍奶的需求富有彈性，代表價格上升率大於需求量減少率  
(B)「康健藥局」藥品的需求缺乏彈性，廠商調漲價格會導致總收入增加  
(C)若「清心飲」想增加總收入，根據經濟學理論應採取「調漲價格」的策略  
(D)「康健藥局」藥品的需求曲線較手搖飲更為平緩，代表消費者對價格變動極為敏感
24. 以下哪一個情況最符合全球化帶來的「逐底競爭」(Race to the Bottom)現象？
- (A)各國為提升國際競爭力，競相投入巨額資金研發半導體等尖端科技，形成人才爭奪戰  
(B)發展中國家為吸引跨國企業，競相放寬環保法規、壓低基本工資或提供大規模免稅優惠  
(C)全球貿易使各國資源互補，導致已開發與開發中國家之間的貧富差距在短期內逐漸改善  
(D)世界貿易組織(WTO)等國際機構透過強制力，要求成員國必須統一制定全球最低工資
25. 自2022年烏俄戰爭爆發以來，由於俄羅斯與烏克蘭分別為全球能源與糧食出口大國，戰爭導致原油、天然氣及小麥供應受阻，全球各地面臨嚴重的通貨膨脹壓力。若我國中央銀行為因應此種局勢，欲採取「緊縮性」貨幣政策以抑制物價持續飆漲，下列何種手段最為可能？
- (A)調降存款準備率，增加商業銀行可貸放的資金  
(B)在公開市場買入政府債券，向市場注入大量流動性  
(C)調升重貼現率，藉此提高商業銀行向央行融資的成本  
(D)降低房貸利率上限，以減輕民眾在戰爭期間的購屋貸款負擔
26. 某市發生一起震驚社會的案件：一名長期遭受家暴的妻子，在丈夫酒後再度施暴時，因憤恨與恐懼交織，持刀刺向丈夫導致其失血過多死亡。該案因涉及「故意犯罪因而發生死亡結果」，依《國民法官法》由3名職業法官與6名國民法官組成合議庭共同審理。關於本案審理程序與法規之敘述，下列何者正確？
- (A)本案依法由國民法官參與審判，被告不得聲請由職業法官單獨審判  
(B)評議有罪需6票以上同意，且須包含國民法官與職業法官雙方票數  
(C)國民法官為釐清真相，得於審理期間私下聯繫當事人或自行前往現場蒐證  
(D)國民法官選任採隨機抽選制，檢察官與辯護人不得詢問或剔除特定人選
27. 小毅因參與抗爭行動遭法院依《刑法》妨害公務罪判決有期徒刑三個月定讞。小毅認為該刑事判決所適用的法律有違憲疑慮，且認為法院在判決理由中對於「言論自由」的解釋完全忽略了憲法保障的本旨。依據現行《憲法訴訟法》，關於小毅尋求救濟的敘述，下列何者正確？
- (A)小毅應向司法院大法官組成之「大法官會議」聲請解釋法律是否違憲  
(B)小毅僅能針對「法律條文」聲請違憲審查，不得針對法院的「判決內容」聲請審查  
(C)若小毅認為判決違憲，得於判決送達後法定期間內，向憲法法庭聲請「裁判憲法審查」  
(D)憲法法庭審理後若認定法律違憲，應由立法院立即宣告該判決無效，並發回原審法院重審
28. 2026年，立法院三讀通過《財政收支劃分法》修正案，行政院認其內容侵害預算編列權且程序違法，於覆議遭否決後，行政院院長罕見加註意見：「...過程與內容悖離民主原則...本人決定基於《憲法》第37條規定，就本次修正條文不予副署，以示對憲法的忠誠。」此舉導致法案無法生效，引發憲政風暴。針對此一事件，下列相關法律與權力制衡之敘述，何者正確？
- (A)副署權僅具形式意義，院長不得以「不副署」阻擋經立法院三讀通過之法律生效  
(B)不副署屬於行政權對立法院的「事前審核」，行為人僅負法理責任而無須承擔政治責任  
(C)若立法院欲反制不副署，須經1/2以上立委連署，方得對行政院長提出不信任案  
(D)不信任案若經全體立委1/2以上贊成，院長應辭職，並得呈請總統解散立法院
29. 某甲因涉嫌強盜案遭警方逮捕，隨後進入司法程序。在訴訟過程中，法院與相關司法人員的行為必須遵守法律基本原則。關於此案涉及之法律原則，下列敘述何者正確？
- (A)為證明清白，某甲負有提出不在場證明等積極證據之義務  
(B)若法律未明文規定某行為構成犯罪，法院即不得對其課處刑罰  
(C)法官審理時若發現起訴範圍外的犯罪事實，應本於職權併案審理  
(D)法官應主動蒐集不利於被告之證據，並與檢察官合作追訴犯罪
30. 某資深法官因長期與其審理案件之相關當事人進行不當飲宴、球敘，並私下提供法律諮詢，經監察院彈劾後移送相關機關審理。懲戒法院審理後認為其行為嚴重損害司法公正形象，違反《法官法》及《公務員服務法》，最終判決該法官「剝奪退休金及退養金」。關於公務人員懲戒制度與本案之敘述，下列何者正確？
- (A)本案法官經監察院彈劾後，應移送司法院所屬之「公務員懲戒委員會」進行審議  
(B)懲戒法院與最高法院地位對等，目前審理程序仍維持「一級一審制」以求審判效率  
(C)針對司法官之懲戒處分，包含免職、撤職、罰款、剝奪或減少退休金、記過及申誡  
(D)若該法官之行為同時觸犯刑法收賄罪，基於「一罪不兩罰」原則，懲戒程序必須停止

31. 我國實施「全民健康保險」，要求高收入者繳納較高之保費，並將此資源投入於全體國民的醫療保障，使經濟弱勢者亦能享有基本醫療權。此一制度設計最符合羅爾斯（John Rawls）正義論中的哪一觀念？
- (A)平等自由原則：醫療權屬於基本自由，必須由國家無條件均分給所有國民  
(B)差異原則：透過經濟上的分配不均，使社會中最不發達的成員獲得最大利益  
(C)無知之幕：這是在大家不知道未來是否生病的情況下，所採取「最大化最大利益」的策略  
(D)功利主義：以犧牲少數富人的利益為代價，來換取社會整體的最大快樂
32. 根據漢娜·鄂蘭（Hannah Arendt）在《極權主義的起源》中的論述，極權主義並非傳統獨裁政體的延伸，而是一種全新的政體形式。關於極權主義與威權主義最顯著的區別，下列敘述何者正確？
- (A)極權主義高度尊重傳統法律體系與官僚體制的延續，以確保社會秩序的絕對穩定  
(B)在現代政治學定義中極權與威權僅是程度上的差異，兩者在理論模型與運作邏輯上完全相同  
(C)極權主義專指右翼的法西斯政權（如納粹德國），左翼政權（如蘇聯）在定義上屬於威權主義  
(D)威權主義僅限制政治參與，而極權主義則試圖徹底消除「公共空間」並全面動員、控制公民的私人生活
33. 在公民課的討論會上，阿誠與阿信針對「個人與社會的關係」展開激辯：
- 阿誠：「每個人都是獨立的個體，我們有權自由選擇想要的生活方式。國家應該像個中立的裁判，不應把某種『好的生活』強加在我們身上！」
- 阿信：「不對！人並非活在真空中的原子。我們的認同、價值觀甚至是對正義的理解，都是由我們所處的文化、歷史與人際關係所『鑲嵌』而成的。」關於阿信的觀點及其對自由主義的批判，下列敘述何者正確？
- (A)主張個人是「先於社會」而存在的獨立個體，擁有不受干擾的自然權利  
(B)認同羅爾斯（Rawls）的看法，認為個人在「無知之幕」後可以拋棄所有身分背景  
(C)認為個人認同是由所處社群的歷史與文化所建構，並非自由主義所言的「無負荷自我」  
(D)主張政府應嚴守「價值中立」原則，不應介入任何關於「共善（Common Good）」的討論
34. 我國於1997年進行第四次憲法增修，對中央政府組織架構進行了大規模調整。下列哪一項法律制度的變更，最能體現我國體制轉向「雙首長制」的特徵？
- (A)總統改由人民直接選舉產生，使其具備強大的民意基礎與國防、外交之實權  
(B)總統發布行政院長任免令時，仍須經由行政院長副署，以落實內閣制之精神  
(C)取消立法院對行政院長的人事同意權，並賦予立法院「不信任權」與總統「被動解散國會權」  
(D)行政院對於立法院通過之法律案或預算案，若窒礙難行時，得經總統核可後移請立法院覆議
35. 我國於2024年立法委員選舉後，國會呈現「三黨不過半」的態勢。若依照學者薩托利（Giovanni Sartori）的分類，關於我國目前政黨體系的描述，下列何者最為適切？
- (A)兩黨制：雖有小黨存在，但政權仍在兩大政黨間規律輪替，小黨不具備實質影響力  
(B)一黨優勢制：單一政黨長期穩定執政並掌握過半席次，其他政黨僅具備象徵性的監督作用  
(C)溫和多元黨制：政黨數量有限且均不具備絕對過半席次，需透過政黨合作或協商進行決策  
(D)極端多元黨制：政黨數量極多且存在強大的反體制政黨，各黨意識形態極端對立
36. 在政治思想史的時光論壇中，兩位思想大師針對「社會契約」的性質展開討論：
- 霍布斯：「人性是自私且恐懼的，在沒有政府的自然狀態下，那是『萬人對萬人的戰爭』。為了生存，我們必須將所有權利無條件轉讓給強大的『利維坦（國家）』，以換取秩序與安全。因此，主權是絕對且不可分割的，人民沒有反抗的權利。」
- 洛克：「我不同意！自然狀態雖有不便，但並非地獄。人們進入社會是為了更穩定地保障『生命、自由與財產』等天賦人權。政府僅是人民的受託者，權力必須受到限制。如果政府違背契約、侵害人權，人民理所當然保有最後的『抵抗權』！」關於洛克的思想及其與霍布斯的差異，下列敘述何者正確？
- (A)洛克主張有限政府，政府若侵害人民天賦的人權，人民具備革命與抵抗的合法性  
(B)洛克認為自然狀態是極度混亂與暴力的，主張應建立「絕對君主制」以維持社會穩定  
(C)洛克與霍布斯均認為「財產權」是進入社會、建立法律後才產生的權利，而非天賦人權  
(D)洛克主張人民在簽署社會契約後，應將所有自然權利永久且完整地轉讓給國家
37. 在一場關於教育成就的座談會中，老師觀察到班上學生在面對「參觀美術館心得」或「古典音樂賞析」等素養考題時，表現出現顯著落差。家境優渥的小華因從小隨父母看展、學琴，寫起來得心應手；而出身勞工家庭的小明雖然努力，卻因缺乏相關生活經驗而難以發揮。關於學者布迪厄（Pierre Bourdieu）對此現象的解釋，下列敘述何者最為適切？
- (A)小華在藝術領域的優異表現，主要是因為其繼承了父母優越的生理基因與天賦  
(B)小明表現不佳，完全是因為家中的書桌、電腦等硬體設備不如小華，導致學習效率低下  
(C)只要小明利用課餘時間打工賺錢並報名補習班，就能輕易彌補家庭背景帶來的表現差距  
(D)學校的評價標準往往與中產階級的品味、談吐及經驗契合，使弱勢子女在無形中處於劣勢

38. 隨著行動載具與無線網路的普及，興起關於「數位分歧」(Digital Divide)的討論：絕大多數家庭已擁有上網設備(第一道分歧縮減)。然而，社會學家發現，不同階級的孩子在網路使用上的落差，已轉向所謂的「第二道分歧」。下列關於「第二道分歧」的敘述，哪一項最能展現其對「階級流動」的負面影響？
- (A)弱勢家庭因居住偏鄉，導致5G基地台建設不足，網路連線速度較城市學生緩慢  
(B)中產家庭運用網路進行自主學習與創作，而弱勢家庭則多將數位工具用於被動的感官娛樂  
(C)政府因預算限制，無法讓每位偏鄉學童都獲得最新型的高階平板電腦，僅能提供基本款設備  
(D)電信業者針對學生族群推出低價資費方案，縮短了不同收入家庭在網路月租費上的負擔落差
39. 長期以來，台中火力發電廠(中火)提供的電力支撐了全台的工業發展，但其排放的空汙(如PM2.5)卻對鄰近區域(如龍井、大肚)居民的健康造成威脅。研究發現，這類「鄰避設施」常傾向設置於政經權力較弱勢、地價較低的地區，而當初決定設廠的決策階層多居住於空氣相對清新的都會核心區。關於此一現象所反映的「環境正義」觀點，下列敘述何者正確？
- (A)弱勢社區居民普遍熱衷於爭取電廠提供的回饋金與減免，主動爭取高污染設施進駐以改善經濟  
(B)環境風險的分配反映了社會權力結構，經濟與政治弱勢者缺乏集體動員能力，難拒絕鄰避設施  
(C)高污染設施的選址純粹是基於海岸線長度、地形起伏等自然地理條件，與該地的人口結構無關  
(D)這是全球化分工下的自然選擇，弱勢地區必須透過承擔環境成本，才能換取進入供應鏈的機會
40. 某國高等法院於近期判決中，撤銷一名被告15年有期徒刑判決，理由為警方於調查過程中，未經合法授權即搜索被告手機取得關鍵證據。法院認為，該證據取得違反憲法隱私權保障，屬於非法證據，依據毒樹果實理論，所有由此衍生之證據皆不具證據能力，因此判決無罪。依據上述情境，法院判決最主要體現下列何種刑事訴訟法律原則？
- (A)無罪推定原則保障被告訴訟權利  
(B)毒樹果實理論排除非法取得證據  
(C)罪刑法定主義避免法律溯及既往  
(D)正當法律程序確保審判程序公正
41. 我國全民健保自1995年開辦以來，醫療支出持續攀升，財務收支逐漸失衡。衛福部提出調整保費費率、擴大補充保費課徵範圍等改革方案。支持者認為，健保具有社會互助與風險分攤精神，適度調高費率有助制度永續。反對者則質疑，政府應先檢討醫療資源浪費問題，而非一味提高民眾負擔，且費率調整應符合量能付費原則。根據上述情境，全民健保改革爭議最能反映下列何種社會保障原則？
- (A)社會互助與量能付費原則平衡考量  
(B)市場競爭機制提升醫療服務效率  
(C)私人保險取代政府社會保障責任  
(D)使用者付費原則完全由個人負擔
42. 縣政府計畫推動大型觀光開發案，但需經議會審議預算。若議會多數反對，導致預算未能通過，行政部門仍試圖透過其他方式執行計畫。依我國地方制度之規定，下列何者最適當？
- (A)縣政府可逕行動用預備金，不需議會同意  
(B)縣長可宣布解散議會，重新改選  
(C)行政與立法意見分歧時，應透過協商或重新編列預算送議會審議  
(D)中央政府可直接介入並命令議會通過預算
43. 市政府欲制定「共享電動滑板車管理自治條例」，以規範業者營運與使用者安全。對此，下列敘述何者正確？
- (A)地方政府無權制定相關法規，須由中央統一立法  
(B)地方政府可依地方自治權制定自治條例，但不得牴觸中央法律  
(C)只要市長同意，即可直接實施，不需議會審議  
(D)此類交通管理事項僅屬中央專屬權限
44. 某鄉鎮居民對於垃圾掩埋場設置計畫產生高度爭議，地方政府決定舉辦公民投票以蒐集民意。關於此作法，下列何者最符合我國制度精神？
- (A)地方性公共事務可透過公民投票表達居民意見  
(B)公民投票僅限中央層級，地方不得實施  
(C)只要投票結果反對，中央政府必須全面撤案  
(D)公民投票結果不具任何政策參考價值
45. 地方政府接受中央委辦「長照服務據點設置計畫」，但因地方財政困難，縣政府決定縮減服務據點數量，並修改服務資格條件，引發民眾抗議。依我國制度，下列何者判斷最合理？
- (A)委辦事項屬地方自治範圍，地方可自行調整執行內容  
(B)中央既已委辦，地方政府可完全依財政狀況決定是否執行  
(C)委辦事項應依中央規範執行，地方不得任意變更核心內容  
(D)若涉及地方財政負擔，地方政府可拒絕所有中央委辦事項
46. 某市政府針對大型開發案舉辦公民審議論壇，提供背景資料，並邀請不同立場的市民進行小組討論並形成共識，最後彙整各組建議供政府參考。最終政策仍由市政府決定，未必完全採納討論結果。對此制度的理解，下列何者最適當？
- (A)不符合審議式民主，因未將決策權交由公民  
(B)符合審議式民主精神，形成具公共知情的討論過程  
(C)屬於直接民主，公民參與政策的形成  
(D)僅屬諮詢性質
47. 對於「鄉(鎮、市)公所」與「直轄市區公所」的差異比較，以下哪個描述最為適切？
- (A)鄉(鎮、市)公所與區公所同屬地方自治團體，僅在人員產生方式不同  
(B)區公所具備完整自治權與財政權，與鄉(鎮、市)公所性質相同  
(C)鄉(鎮、市)公所具有自治地位與財政權，而區公所屬派出機關，不具自治權  
(D)區公所首長由市民直選產生，以強化基層民主參與

48. 某市政府規劃興建一座大型多功能運動中心，考量財政有限、營運專業不足，以及長期維護成本高等因素，決定評估採取不同的公私合夥（PPP）模式，以兼顧公共利益與經營效率。依上述條件判斷，下列何種策略最為適當？
- (A)由政府自行興建與營運，以確保公共服務品質與政策一致性
  - (B)將興建與營運完全委外，由民間承擔所有成本與風險，政府不再介入
  - (C)採BOT模式，由民間投資興建並經營一定期間後再移轉政府
  - (D)僅將清潔與維護業務外包，其餘仍由政府負責，以降低管理風險
49. 某全國性社會團體在發展過程中，逐漸出現由少數核心幹部主導決策的情形，即使形式上仍維持會員參與機制，實際決策權卻集中於少數人手中。有學者認為，此現象可視為組織內部出現「寡頭政治」的傾向。依上述情境判斷，下列何者最能說明此種現象所反映的組織病象？
- (A)組織成員為爭取支持而迎合多數意見，導致決策流於情緒化
  - (B)組織運作過度依賴制度與程序，產生僵化與形式主義
  - (C)組織權力逐漸集中於少數人手中，偏離原有民主運作原則
  - (D)組織成員為避免責任，傾向降低參與程度以維持穩定
50. 司法院大法官第485號解釋對於平等權有以下的闡述「憲法第7條平等原則並非指絕對、機械之形式上平等，而係保障人民在法律上地位之實質平等，立法機關基於憲法之價值體系及立法目的，自得斟酌規範事物性質之差異而為合理之區別對待。」以下關於平等權的敘述何者正確？
- (A)優惠型差別待遇可實現並保護實質的平等
  - (B)為求賦稅公平，所有國民不問收入高低皆應繳納相同比例的稅額
  - (C)齊頭式的平等是憲法所保障的平等權
  - (D)優惠型差別待遇的措施仍須經立法院訂定明確的法律才能施行

試題公告  
僅供參考